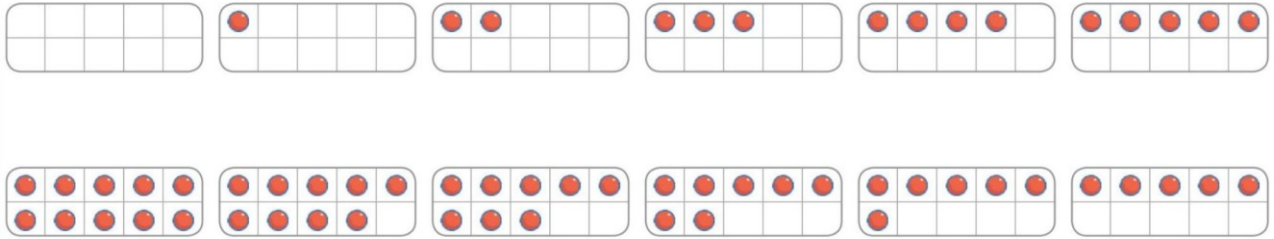


lundi mardi mercredi jeudi vendredi samedi dimanche



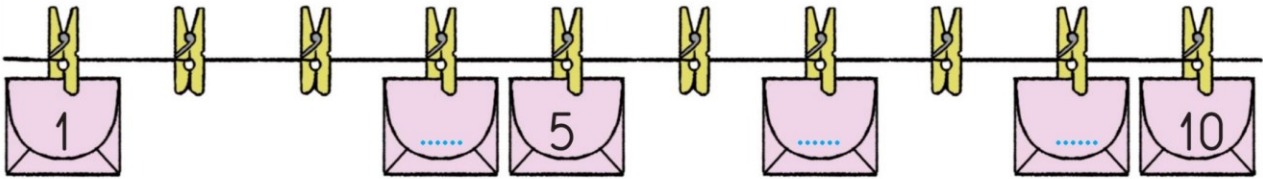
La quantité 10

- 1 Relie 2 cartes par un trait pour avoir 10 points.
Trace tous les traits possibles.

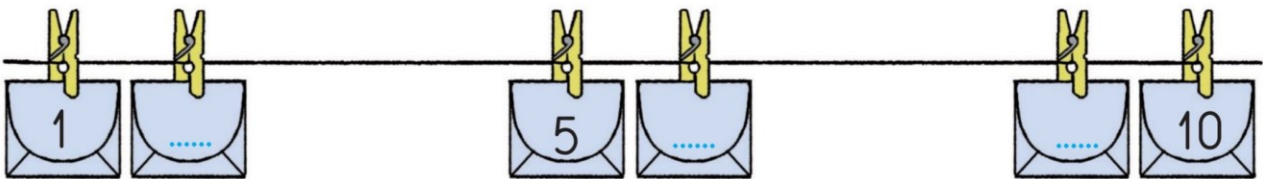


Repérer un rang

- 2 Écris les nombres qui manquent sur les enveloppes.



- 3 Écris les nombres qui manquent sur les enveloppes.



- 4 Écris les nombres qui manquent sur les enveloppes.

